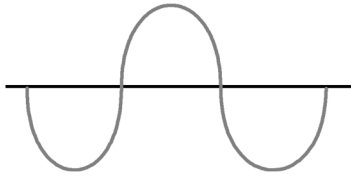


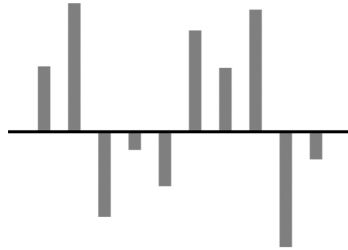
展廳工作紙

姓名：_____

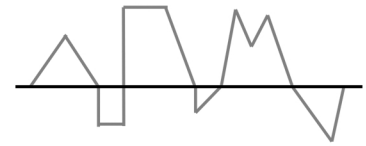
1. 聲音是以甚麼形狀的聲波傳播？



A. 波浪形的聲波



B. 柱形的聲波

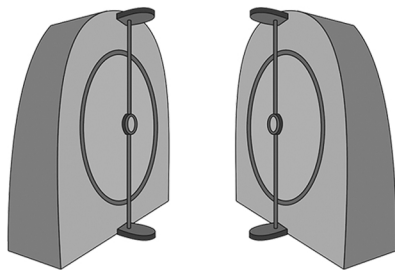


C. 不規則形狀的聲波

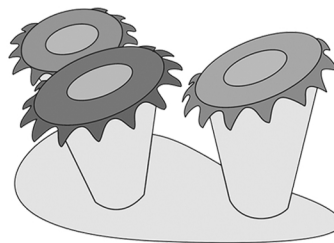
2. 聲音可透過以下哪一種介質傳播？

- A. 水
- B. 空氣
- C. 木頭
- D. 以上皆是

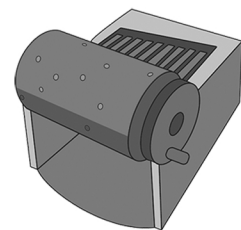
3. 哪一件展品是以反射來傳播聲音的？



A. 聲音反射



B. 電子鼓



C. 音樂盒